

**Arkusz oceny wyników uczniów klasy II (test na wyjściu) w roku szkolnym .....**

[illegible]

16.	Znajomość liczb trzycyfrowych w porządku rosnącym																														
17.	Rozwiązywanie zadania tekstowego na odejmowanie; banknoty i monety; obliczenia pieniężne																														
18.	Myślenie matematyczne (rozkładanie liczby na 3 składniki)																														
19.	Synteza sylabowa wyrazów o tematyce przyrodniczej																														
20.	Innowacyjność i kreatywność – budowanie krzyżówki o tematyce komputerowej																														
21.	Czytanie ze zrozumieniem, znajomość zawodów																														
	<b>Razem</b>																														

\* wpisać liczbę punktów uzyskanych przez ucznia

## Kartoteka testu sprawdzającego dla uczniów klasy II (na wyjściu)

(Możliwa do uzyskania przez ucznia ilość punktów – 40)

Lp.	Sprawdzane kategorie wiedzy z podstawy programowej edukacji wczesnoszkolnej	Nr zadania	Ilość punktów za zadanie	Uwagi
17.	Kompetencje ortograficzne			
18.	Dzielenie wyrazów na sylaby			
19.	Znajomość nazw miesięcy, dni tygodnia oraz upływu czasu			
20.	Redagowanie i zapisywanie życzeń			
21.	Rozwiązywanie zadania tekstowego na dodawanie			
22.	Znajomość środków transportu/komunikacji			
23.	Czytanie ze zrozumieniem			
24.	Wykonywanie złożonych obliczeń pieniężnych			
25.	Pojęcie prostokąta; odmierzanie długości, projektowanie plastyczne			
26.	Korzystanie z komputera; czytanie ze zrozumieniem			
27.	Znajomość urządzeń technicznych (stosowanych w domu)			
28.	Projektowanie graficzne; przestrzeganie zasad korzystania z komputera			
29.	Znajomość telefonów alarmowych			
30.	Porównywanie liczb trzycyfrowych			
31.	Znajomość liczb dwucyfrowych w porządku rosnącym			
32.	Znajomość liczb trzycyfrowych w porządku rosnącym			
17.	Rozwiązywanie zadania tekstowego na odejmowanie; banknoty i monety; obliczenia pieniężne			
18.	Myślenie matematyczne (rozkładanie liczby na 3 składniki)			
19.	Synteza sylabowa wyrazów o tematyce przyrodniczej			
20.	Innowacyjność i kreatywność – budowanie krzyżówki o tematyce komputerowej			
21.	Czytanie ze zrozumieniem, znajomość zawodów			

Proponowany klucz analizy:

40 – 36 pkt. Poziom wysoki

35,5 – 28 pkt. Poziom dobry

27,5 – 20 pkt. Poziom mniej niż dobry

19,5 i mniej poziom niski (konieczne wspomaganie)

**Test sprawdzający dla uczniów klasy drugiej (na wyjściu)**

**Wkrótce wakacje**

Imię i nazwisko ucznia.....

Data.....

**1. Uzupełnij wyrazy właściwymi literami**

Niedł...go wakacje. Natalia wyje...dza nad mo...e a Sylwia w g...ry. W...jek ...atalii jest maryna...em i mieszka w ...dańsku. Poka...e dziewczynce port. ...ylwia spędzi wakacje w ...akopanem. Na pewno wjedzie kolejką na G...bał...wkę. Dziewczynki zrobią pamiątkowe zdjęcia.

**2. Napisz wyrazy w kolejności od najmniejszej do największej liczby sylab.**

wujek, Natalia, port, Gubałówka

.....  
.....

**3. Dokończ zdania wyrazami oznaczającymi miesiące lub dni tygodnia**

Wakacje rozpoczynają się w miesiącu ..... a kończą  
.....

Jeżeli dzisiaj jest ....., to jutro będzie .....

Dniami wolnymi od zajęć w szkole są ..... i .....

Rok szkolny zaczyna się w miesiącu .....

W ..... będą święta Bożego Narodzenia.

**4. Ułóż życzenia imieninowe dla wybranej osoby.**

.....  
.....  
.....  
.....  
.....  
.....  
.....

.....

.....

.....

.....

.....

**5. Oblicz koszt zakupu biletów kolejowych dla czteroosobowej rodziny (2 rodziców i 2 dzieci) na trasie Łowicz-Warszawa**

22 zł- cena biletu dla osoby dorosłej

11 zł- cena biletu dla dziecka

.....

.....

.....

.....

**6. Podaj przykłady pojazdów**

Ląd	Woda	Powietrze
.....	.....	.....
.....	.....	.....

**7. Wykreśl w zdaniach niepotrzebne wyrazy.**

Latem zimą potrzebny jest strój kąpielowy.

Rok ma dwanaście miesięcy złotych.

Wiosną przylatują bociany gile.

Jesienią można zbierać na plaży kasztany.

Czapkę zakładam zimą na głowę wieszak.

**8. Rodzice wybrali się z dziećmi na zakupy. Olek włożył do koszyka chleb razowy i masło. Marta wybrała 4 bułeczki i 3 serki. Mama włożyła paczkę paluszków. Tata dołożył 4 soki marchwiowe.**

**Ceny produktów:**

Chleb razowy – 3zł

Masło – 4zł

Bułeczka – 0,50gr

Serek – 2zł 50gr

Paluszki – 2zł 50gr

Sok marchwiowy – 5zł

**Oblicz, ile zapłacą za zakupy.**

.....

.....

.....

.....

**9. Narysuj prostokąt o wymiarach 12 cm i 6cm. Zaprojektuj kartę pocztową przedstawiającą krajobraz nadmorski.**

**10. Przeczytaj i zaznacz: prawda lub fałsz stawiając „X” w wybranym okienku.**

	<b>P</b>	<b>F</b>
W szkole nie ma ani jednego komputera.		
Trzeba właściwie zorganizować stanowisko komputerowe.		
W pracowni komputerowej obowiązują zasady korzystania.		
Rodzice i nauczyciele kontrolują korzystanie z komputera.		
Warto zaglądać na stronę internetową szkoły.		
Możemy korzystać z Internetu dowolnie.		

**11. Podaj nazwy urządzeń technicznych, które można stosować w domu.**


**Wymień co najmniej pięć.**

.....

.....

.....

**12. Zaprojektuj znak „Przyjazny komputer”.**



**13. Połącz:**

997

lekarz

999

strażak

998

policjant

**14. Wstaw odpowiednie znaki <, >, =**

997.....998

999.....998

999.....997

112.....112

**15. Uzupełnij liczby.**

		30			60			90		110		
--	--	----	--	--	----	--	--	----	--	-----	--	--

**16. Uzupełnij liczby.**

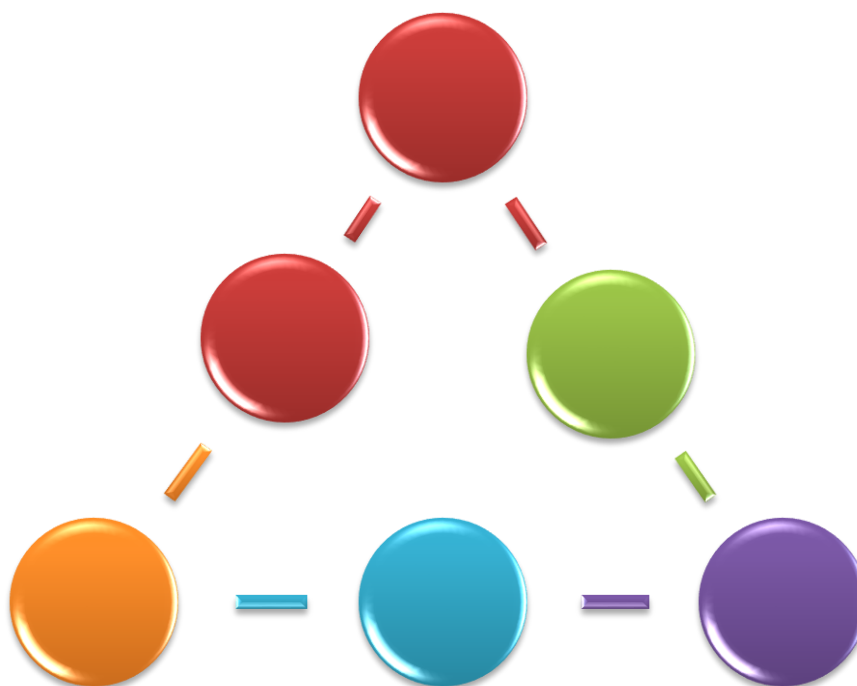
100		300			600			900	
-----	--	-----	--	--	-----	--	--	-----	--

**17. Kasia dała do kasy 50zł i otrzymała 45zł reszty. Jakie to mogły być banknoty i monety? Podaj 2 rozwiązania.**

1).....

2).....

**18. Wstaw liczby tak, aby trójkąt był magiczny (suma liczb wzdłuż boków trójkąta była taka sama).**



**19. Ułóż co najmniej 5 wyrazów z sylab:**

gle, szko, dni, ba, ki, grzy, sos, by, ny, świer.
---

**Sylaby mogą się powtarzać**

.....

.....

.....



**20. Ułóż krzyżówkę, aby rozwiązaniem był wpisany wyraz. Możesz wykorzystać podane litery jako elementy haseł. Możesz dopasować okienka.**

1.				O	<b>K</b>	N	O				
2.					<b>O</b>						
3.					<b>M</b>						
4.					<b>P</b>						
5.					<b>U</b>						
6.					<b>T</b>						
7.					<b>E</b>						
8.					<b>R</b>						

1. Wyglądasz prze nie w domu: jest także w komputerze.
2. ....
3. ....
4. ....
5. ....
6. ....
7. ....
8. ....

**21. O jakim zawodzie jest mowa w tekście, podkreśl wybraną odpowiedź.**

Ten człowiek leczy zwierzęta i dobiera dla nich leki.

- a) Pielęgniarka
- b) Weterynarz
- c) Ornitolog
- d) Malarz

**Test sprawdzający dla uczniów klasy drugiej (na wyjściu)**

**Wkrótce wakacje**

Imię i nazwisko ucznia.....

Data.....

**1. Uzupełnij wyrazy właściwymi literami**

Niedł...go wakacje. Tymek wyje...dza nad mo...e a Bartek w g...ry. W...jek ...ymka jest maryna...em i mieszka w ...dańsku. Poka...e chłopcu port. ...artek spędzi wakacje w ...akopanem. Na pewno wjedzie kolejką na G...bał...wkę. Chłopcy zrobią pamiątkowe zdjęcia.

**2. Napisz wyrazy w kolejności od najmniejszej do największej liczby sylab.**

Gdańsk, kolejka, Zakopane, wiatr

.....  
.....

**3. Dokończ zdania wyrazami oznaczającymi miesiące lub dni tygodnia**

Rok szkolny zaczyna się w miesiącu .....

Jeżeli dzisiaj jest ....., to jutro będzie .....

Wakacje rozpoczynają się w miesiącu ..... a kończą .....

W ..... będą święta Bożego Narodzenia.

Dniami wolnymi od zajęć w szkole są ..... i .....

**4. Ułóż życzenia świąteczne dla wybranej osoby ( na przykład z okazji Świąt Bożego Narodzenia)**

.....  
.....  
.....  
.....  
.....  
.....

.....

.....

.....

.....

.....

**5. Oblicz koszt zakupu biletów kolejowych dla trzyosobowej rodziny (1 rodzic i 2 dzieci) na trasie Łowicz-Warszawa**

22 zł- cena biletu dla osoby dorosłej

11 zł- cena biletu dla dziecka

.....

.....

.....

.....

**6. Podaj przykłady pojazdów**

Powietrze	Woda	Ląd
.....	.....	.....
.....	.....	.....

**7. Wykreśl w zdaniach niepotrzebne wyrazy.**

Jesienią można zbierać na plaży kasztany.

Wiosną przylatują bociany gile.

Czapkę zakładam zimą na głowę wieszak.

Rok ma dwanaście miesięcy złotych.

Latem zimą potrzebny jest strój kąpielowy.

**8. Rodzice wybrali się z dziećmi na zakupy. Romek włożył do koszyka chleb razowy i masło. Paulina wybrała 2 bułeczki i 4 serki. Mama włożyła paczkę paluszków. Tata dołożył 3 soki marchwiowe.**

**Ceny produktów:**

Chleb razowy – 3zł

Masło – 4zł

Buleczka – 0,50gr

Serek – 2zł 50gr

Paluszki – 2zł 50gr

Sok marchwiowy – 4zł

**Oblicz, ile zapłacą za zakupy.**

.....

.....

.....

.....

**9. Narysuj prostokąt o wymiarach 11 cm i 5cm. Zaprojektuj kartę pocztową przedstawiającą krajobraz nadmorski.**

**10. Przeczytaj i zaznacz: prawda lub fałsz stawiając „X” w wybranym okienku.**

	<b>P</b>	<b>F</b>
W szkole nie ma ani jednego komputera.		
Trzeba właściwie zorganizować stanowisko komputerowe.		
W pracowni komputerowej obowiązują zasady korzystania.		
Rodzice i nauczyciele kontrolują korzystanie z komputera.		
Warto zaglądać na stronę internetową szkoły.		
Możemy korzystać z Internetu dowolnie.		

**11. Podaj nazwy urządzeń technicznych, które można stosować w domu.**

**Wymień co najmniej pięć.**

.....

.....

.....

**12. Zaprojektuj znak „Przyjaciel lasu”.**



**13. Połącz:**

998

policjant

999

strażak

997

lekarz

**14. Wstaw odpowiednie znaki <, >, =**

999.....997

997.....998

112.....112

999.....998

**15. Uzupełnij liczby.**

		15			35			55			70	
--	--	----	--	--	----	--	--	----	--	--	----	--

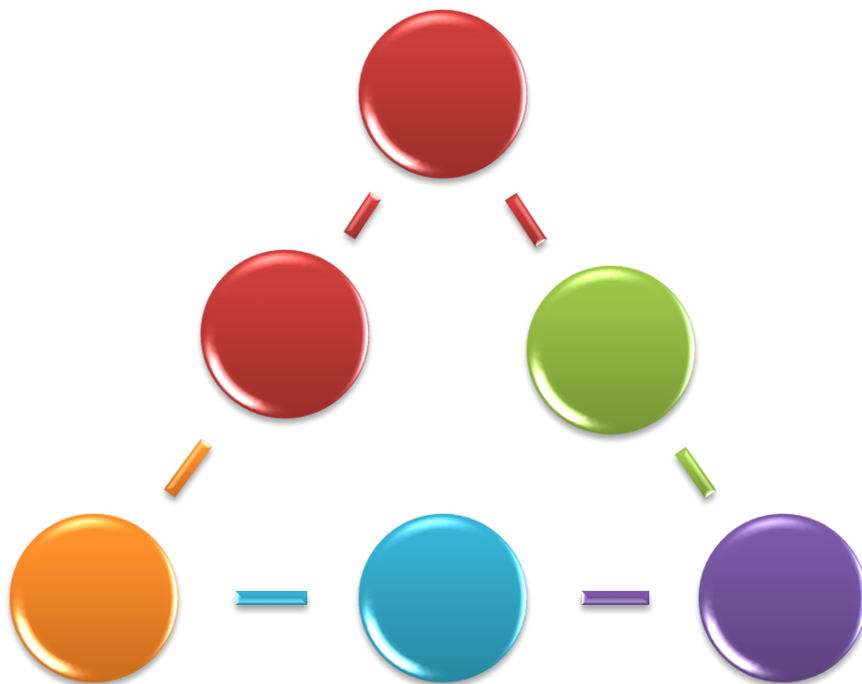
**16. Uzupełnij liczby.**

100		300			600			900	
-----	--	-----	--	--	-----	--	--	-----	--

**17. Kasia dała do kasy 60zł i otrzymała 55zł reszty. Jakie to mogły być banknoty i monety? Podaj 2 rozwiązania.**

- 1).....  
2).....

**18. Wstaw liczby tak, aby trójkąt był magiczny (suma liczb wzdłuż boków trójkąta była taka sama).**



**19. Ułóż co najmniej 5 wyrazów z sylab:**

mor, to, li, po, Pu, le, lis, mu, cie, cho

Sylaby mogą się powtarzać

.....  
.....  
.....

**20. Ułóż krzyżówkę, aby rozwiązaniem był wpisany wyraz. Możesz wykorzystać podane litery jako elementy hasel. Możesz dopasować okienka.**

1.					M	Y	S	Z		
2.					O					
3.					N					
4.					I					
5.					T					
6.					O					
7.					R					
8.					Y					

1. Zwierze i w komputerze.
2. ....
3. ....
4. ....
5. ....
6. ....
7. ....
8. ....

**21. O jakim zawodzie jest mowa w tekście, podkreśl wybraną odpowiedź.**

Ten człowiek naprawia pojazdy samochodowe.

- a) lekarz
- b) mechanik samochodowy
- c) szewc
- d) drukarz